



# مشاوره تحصیلی تمصیلیکو

مشاوره تخصصی ثبت نام مدارس ، برنامه ریزی درسی و  
آمادگی برای امتحانات مدارس

برای ورود به صفحه مشاوره مدارس کلیک کنید

تماس با مشاور تحصیلی مدارس

۹۰۹۹۰۷۱۷۸۹



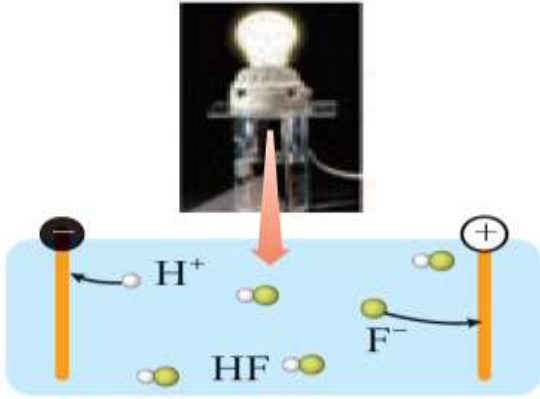
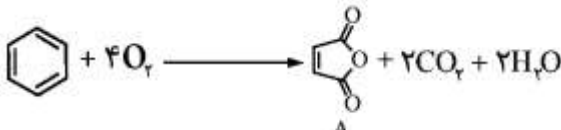

تماس از تلفن ثابت

آزمون هماهنگ استانی پیش نوبت دوم درس شیمی ۳

مشخصات دانش آموز	مشخصات امتحان	زمان امتحان
شماره‌ی کارت:	درس: شیمی ۳	ساعت: ۸ صبح
نام:	رشته: علوم تجربی	روز و تاریخ: سه شنبه ۱۳۹۸/۰۲/۱۰
نام خانوادگی:	پایه: دوازدهم	مدت پاسخگویی: ۱۱۰ دقیقه

توجه: ۱. این آزمون شامل ۵ صفحه و ۱۴ پرسش است. ۲. جدول دوره‌های عنصرها و سری الکتروشیمیایی پیوست پرسش‌های آزمون می‌باشد. ۳. استفاده از ماشین حساب ساده مجاز است. ۴. پاسخ پرسش‌ها در پاسخنامه فقط با خودکار آبی یا مشکی نوشته شود. ۵. در پرسش‌های محاسباتی، پاسخ‌های خود را مبتنی بر هدف‌های آموزشی و تا دو رقم پس از اعشار گزارش کنید. ۶. استفاده از لاک غلط گیر مجاز نیست.

ردیف	پرسش	نمره														
۱	<p>هر یک از عبارت‌های زیر را با یکی از واژه‌ها یا اصطلاحات درون کادر پر کنید. توجه نمایید که تعدادی از واژه‌ها یا اصطلاحات اضافی هستند.</p> <p style="text-align: center; border: 1px solid black; padding: 5px;">منفی - هنری - میانگین آنتالپی پیوند - هابر - <math>E_a</math> - هال - <math>\Delta H</math> - مثبت</p> <p>(آ) رایج‌ترین روش تهیه‌ی فلز آلومینیم، استفاده از فرایند ..... است.</p> <p>(ب) تولید گرما در اثر کشیده شدن نوک کبریت روی سطح زبر قوطی آن، ..... واکنش انجام شده را تأمین می‌کند.</p> <p>(پ) در فرایند آبکاری، جسمی که آبکاری می‌شود به قطب ..... باتری اتصال دارد.</p>	۰/۷۵														
۲	<p>هر یک از عبارت‌ها یا واژه‌های ستون «الف» با یکی از نمادها یا فرمول‌های شیمیایی ستون «ب» ارتباط دارد. آن‌ها را پیدا کرده، با یک خط به هم وصل کنید. ترتیب این عبارت‌ها با نمادها یا فرمول‌های شیمیایی هماهنگ نیست. توجه کنید که در ستون «ب» یک نماد یا فرمول شیمیایی اضافی گنجانده شده است.</p> <table border="1" style="width: 100%; text-align: center;"> <thead> <tr> <th>ستون «الف»</th> <th>ستون «ب»</th> </tr> </thead> <tbody> <tr> <td>(۱) نافلزی اکسیژن دوست</td> <td>V (آ)</td> </tr> <tr> <td>(۲) عامل سرخ فام بودن خاک رس</td> <td>Ni-Ti (ب)</td> </tr> <tr> <td>(۳) نوعی رنگدانه‌ی معدنی</td> <td>Fe<sub>۲</sub>O<sub>۳</sub> (پ)</td> </tr> <tr> <td>(۴) فلزی با آرایش الکترونی [Ar]۳d<sup>۳</sup>۴s<sup>۲</sup></td> <td>Si (ت)</td> </tr> <tr> <td>(۵) آلیاژ هوشمند</td> <td>P (ث)</td> </tr> <tr> <td></td> <td>TiO<sub>۲</sub> (ج)</td> </tr> </tbody> </table>	ستون «الف»	ستون «ب»	(۱) نافلزی اکسیژن دوست	V (آ)	(۲) عامل سرخ فام بودن خاک رس	Ni-Ti (ب)	(۳) نوعی رنگدانه‌ی معدنی	Fe <sub>۲</sub> O <sub>۳</sub> (پ)	(۴) فلزی با آرایش الکترونی [Ar]۳d <sup>۳</sup> ۴s <sup>۲</sup>	Si (ت)	(۵) آلیاژ هوشمند	P (ث)		TiO <sub>۲</sub> (ج)	۱/۲۵
ستون «الف»	ستون «ب»															
(۱) نافلزی اکسیژن دوست	V (آ)															
(۲) عامل سرخ فام بودن خاک رس	Ni-Ti (ب)															
(۳) نوعی رنگدانه‌ی معدنی	Fe <sub>۲</sub> O <sub>۳</sub> (پ)															
(۴) فلزی با آرایش الکترونی [Ar]۳d <sup>۳</sup> ۴s <sup>۲</sup>	Si (ت)															
(۵) آلیاژ هوشمند	P (ث)															
	TiO <sub>۲</sub> (ج)															
۳	<p>با توجه ابزار زیر:</p> <p>لامپ LED، باتری ۹ ولتی، سیم، سوکت، مقاومت ۳۳۰ اهمی، مداد و کاغذ؛ آزمایشی را طراحی کنید تا با استفاده از آن بتوان نشان داد که «گرافن» رسانای الکتریکی است.</p>	۲														

ردیف	پرسش	نمره																
۴	<p>مشاوره تحصیلی پرسش</p> <p>با توجه به شکل زیر، درصد یونش محلول هیدروفلوریک اسید را به دست آورید. نوشتن راه حل کامل الزامی است.</p> 	۰/۷۵																
۵	<p>محلولی از پتاسیم هیدروکسید، KOH، با <math>pH = 9.52</math> در دمای اتاق تهیه شده است. غلظت مولی یون‌های هیدرونیوم و هیدروکسید در آن چه قدر است؟ نوشتن راه حل کامل الزامی است.</p>	۱/۷۵																
۶	<p>جوش شیرین و شیر منیزی دو دارویی هستند که به وسیله‌ی پزشکان به عنوان ضد اسید برای بیماران تجویز می‌شوند. با توجه به واکنش‌های زیر، دو دلیل بیاورید که نشان دهد «شیر منیزی» داروی مؤثرتری به شمار می‌آید.</p> $NaHCO_3 (s) + HCl (aq) \longrightarrow NaCl (aq) + H_2O (l) + CO_2 (g)$ $Mg(OH)_2 (s) + 2HCl (aq) \longrightarrow MgCl_2 (aq) + 2H_2O (l)$	۱																
۷	<p>آ بر اساس اصول شیمی سبزی، کدام یک از روش‌های زیر، برای سنتز ترکیب «A» مناسب‌تر است؟ دو دلیل برای انتخاب خود ارائه دهید.</p> <p>i)  بازده = ۴۴/۱۴٪</p> <p>ii)  بازده = ۶۴/۴۷٪</p> <p>ب) در ترکیب «A»، عدد اکسایش اتم کربنی که با پیوند کووالانسی دو گانه به اتم اکسیژن متصل است، کدام یک از اعداد پیشنهادی (۳، -۳ یا ۳) می‌باشد؟</p>	۱/۵																
۸	<p>تبادل زیر در شرایط بهینه و در ظرفی به حجم ۲ لیتر برقرار شده است. با توجه به آن و داده‌های ارائه شده در جدول، ثابت تبادل واکنش را به دست آورید. نوشتن راه حل کامل الزامی است.</p> $N_2 (g) + 3H_2 (g) \rightleftharpoons 2NH_3 (g)$ <table border="1" data-bbox="454 1787 1216 2049"> <thead> <tr> <th><math>N_2</math></th> <th><math>H_2</math></th> <th><math>NH_3</math></th> <th>گونه ویژگی</th> </tr> </thead> <tbody> <tr> <td>۰/۶۰</td> <td>۰/۴۲</td> <td>—</td> <td>غلظت مولی (مولار)</td> </tr> <tr> <td>—</td> <td>—</td> <td>۳/۷۵</td> <td>جرم (گرم)</td> </tr> <tr> <td>۲۸/۰۲</td> <td>۲/۰۱</td> <td>۱۷/۰۳</td> <td>جرم مولی (گرم بر مول)</td> </tr> </tbody> </table>	$N_2$	$H_2$	$NH_3$	گونه ویژگی	۰/۶۰	۰/۴۲	—	غلظت مولی (مولار)	—	—	۳/۷۵	جرم (گرم)	۲۸/۰۲	۲/۰۱	۱۷/۰۳	جرم مولی (گرم بر مول)	۱/۵
$N_2$	$H_2$	$NH_3$	گونه ویژگی															
۰/۶۰	۰/۴۲	—	غلظت مولی (مولار)															
—	—	۳/۷۵	جرم (گرم)															
۲۸/۰۲	۲/۰۱	۱۷/۰۳	جرم مولی (گرم بر مول)															



## مشاوره تحصیلی تحصیلیکو

نمره		ردیف
۲	<p>با توجه به نمودار زیر که روند تغییر ثابت تعادل واکنش: <math>N_2(g) + O_2(g) \rightleftharpoons 2NO(g)</math> را با دما، در فشار ثابت نشان می دهد به پرسش های مطرح شده پاسخ دهید.</p> <div style="text-align: center;"> </div> <p>(آ) این واکنش جزء واکنش های <b>گرماگیر</b> یا <b>گرماده</b> به شمار می رود؟ چرا؟                      (ب) میزان پیشرفت واکنش در کدام دما (۷۲۷ یا ۱۷۲۷ درجه ی سلسیوس) کمتر است؟                      (پ) در موتور خودروهای امروزی پس از سوختن بنزین، این گازها به سرعت <b>سرد</b> می شوند. در چنین شرایطی، مقدار <b>واکنش دهنده</b> (ها) در سامانه چه تغییری می کند؟ پاسخ خود را به طور کامل و به کمک «اصل لوشاتلیه» توجیه نمایید.                      (ت) واکنش تجزیه ی گاز نیتروژن مونو اکسید - که یکی از آلاینده های هوا به شمار می رود - در دماهای پایین بسیار کند انجام می شود. برای برطرف کردن آن، نصب چه قطعه ای را در اگزوز خودروها و در مسیر خروجی گازها به خودروسازان پیشنهاد می کنید؟</p>	۱۳
۱/۵	<p style="text-align: center;">مفتول فلزی که جنس آن یکی از فلزهای <math>Ag, Co, Mn</math> یا <math>Pt</math> است.</p> <div style="text-align: center;"> </div> <p>از دانش آموزی خواسته شد با انجام دادن دقیق سه آزمایش با محلول های داده شده، جنس یک مفتول فلزی را تعیین کند. او پس از این کار، مشاهده های خود را چنین گزارش کرد:</p> <p><b>مشاهده ی ۱:</b> فلز با <math>ZnCl_2(aq)</math> و <math>HCl(aq)</math> واکنش نمی دهد.  <b>مشاهده ی ۲:</b> فلز با <math>PdCl_2(aq)</math> واکنش داده، <math>Pd(s)</math> تشکیل می شود.</p> <p>اکنون به دو پرسش زیر پاسخ دهید.</p> <p>(آ) شما از هر <b>یک</b> از این مشاهده ها چه نتیجه ای می گیرید؟ به طور کامل توضیح دهید.                      (ب) جنس مفتول فلزی کدام یک از فلزهای معرفی شده در شکل بالا است؟</p>	۱۴
۲۰	<p><a href="http://www.Tahsilico.com">www.Tahsilico.com</a></p>	جمع نمرات

## مشاوره تحصیلی تحصیلیکو

\*پتانسیل‌های کاهش استاندارد\*

نیم واکنش کاهش	$E^\circ$ (V)
$\text{Pt}^{2+}(\text{aq}) + 2e^- \rightarrow \text{Pt}(s)$	+۱/۲۰
$\text{Pd}^{2+}(\text{aq}) + 2e^- \rightarrow \text{Pd}(s)$	+۰/۹۹
$\text{Ag}^+(\text{aq}) + e^- \rightarrow \text{Ag}(s)$	+۰/۸۰
$\text{Cu}^{2+}(\text{aq}) + 2e^- \rightarrow \text{Cu}(s)$	+۰/۳۴
$2\text{H}^+(\text{aq}) + 2e^- \rightarrow \text{H}_2(\text{g})$	۰/۰۰
$\text{Co}^{2+}(\text{aq}) + 2e^- \rightarrow \text{Co}(s)$	-۰/۲۸
$\text{Zn}^{2+}(\text{aq}) + 2e^- \rightarrow \text{Zn}(s)$	-۰/۷۶
$\text{Mn}^{2+}(\text{aq}) + 2e^- \rightarrow \text{Mn}(s)$	-۱/۱۸

۱ H ۱/۰۰۸	<div style="border: 1px solid black; padding: 5px; width: fit-content; margin: 0 auto;">                     راهنمای جدول تناوبی عناصرها                      عدد اتمی                      ۶                      جرم اتمی میانگین            ۱۲/۰۱                      C                 </div>																۲ He ۴/۰۰۳
۳ Li ۶/۹۴۱	۴ Be ۹/۰۱۲											۵ B ۱۰/۸۱	۶ C ۱۲/۰۱	۷ N ۱۴/۰۱	۸ O ۱۶/۰۰	۹ F ۱۹/۰۰	۱۰ Ne ۲۰/۱۸
۱۱ Na ۲۲/۹۹	۱۲ Mg ۲۴/۳۱											۱۳ Al ۲۶/۹۸	۱۴ Si ۲۸/۰۹	۱۵ P ۳۰/۹۷	۱۶ S ۳۲/۰۷	۱۷ Cl ۳۵/۴۵	۱۸ Ar ۳۹/۹۵
۱۹ K ۳۹/۱۰	۲۰ Ca ۴۰/۰۸	۲۱ Sc ۴۴/۹۶	۲۲ Ti ۴۷/۸۷	۲۳ V ۵۰/۹۴	۲۴ Cr ۵۲/۰۰	۲۵ Mn ۵۴/۹۴	۲۶ Fe ۵۵/۸۵	۲۷ Co ۵۸/۹۳	۲۸ Ni ۵۸/۶۹	۲۹ Cu ۶۳/۵۵	۳۰ Zn ۶۵/۳۹	۳۱ Ga ۶۹/۷۲	۳۲ Ge ۷۲/۶۴	۳۳ As ۷۴/۹۲	۳۴ Se ۷۸/۹۶	۳۵ Br ۷۹/۹۰	۳۶ Kr ۸۳/۸۰

\*پیروز و سربلند باشید\*